

Nom :

Date :

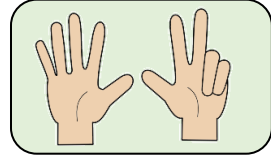
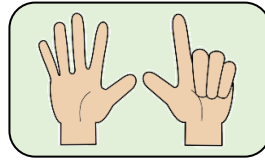
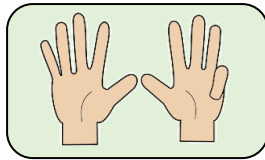
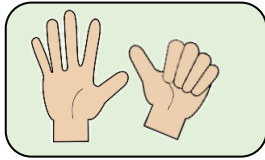
- Dénumérer et réaliser des collections de 6 à 9 éléments.

Exercices

Lire et écrire les nombres de 6 à 9

1

Relie les doigts avec le nombre qui convient.



9

6

8

7

2

Entoure 7 gâteaux.



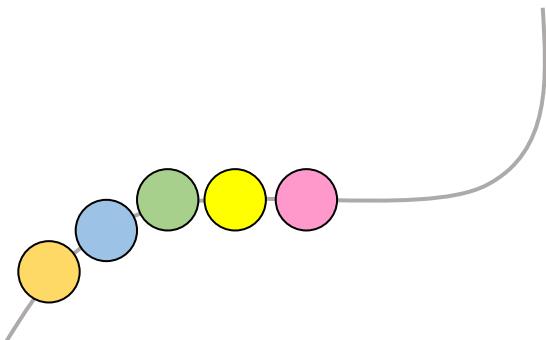
3

Entoure 8 objets.



4

Ajoute pour obtenir 9.



5

Enlève pour obtenir 6.



- Décomposer et recomposer les nombres de 6 à 9 en s'aidant des collections.

Nom :

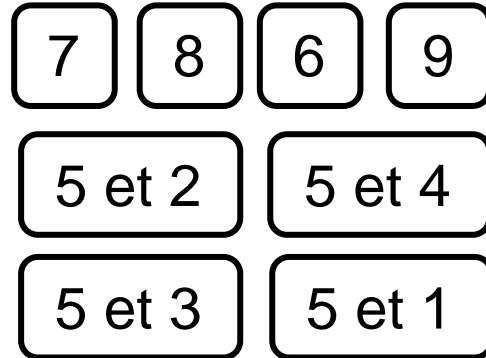

Date :

Exercices

Lire et écrire les nombres de 6 à 9

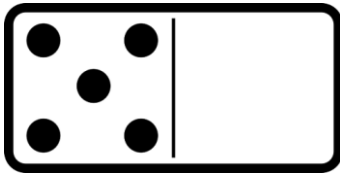
1

Colorie de la même couleur les nombres identiques.

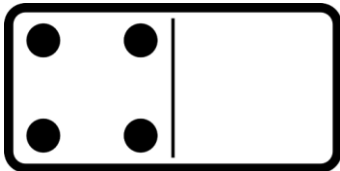


2

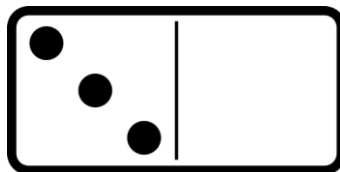
Complète pour obtenir 8.



5 et ...



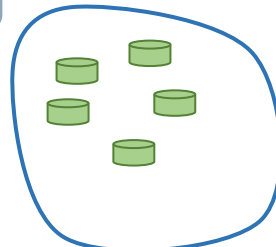
... et ...



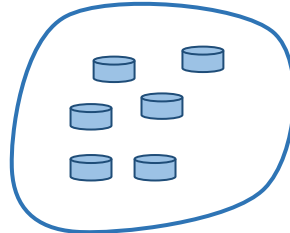
... et ...

3

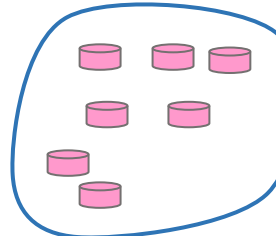
Complète pour obtenir 9.



... et ...



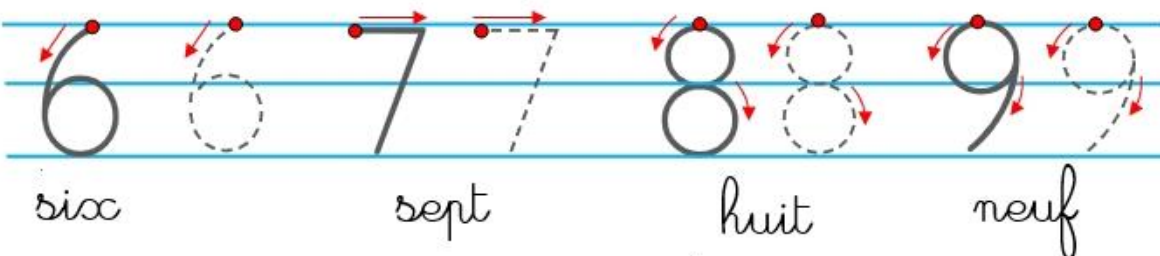
... et ...



... et ...

4

Ecris les nombres en chiffres.



• Dénumbrer et réaliser des collections de 6 à 9 éléments.

Nom :

Date :


Corrigé

Lire et écrire les nombres de 6 à 9

1 Relie les doigts avec le nombre qui convient.

Four boxes showing hand gestures: 1) Left hand 5 fingers, right hand 4 fingers. 2) Left hand 5 fingers, right hand 4 fingers. 3) Left hand 5 fingers, right hand 2 fingers. 4) Left hand 5 fingers, right hand 3 fingers. Below are boxes with numbers 9, 6, 8, 7. Red arrows connect the boxes to the numbers: 9 to the first box, 6 to the second box, 8 to the third box, and 7 to the fourth box.

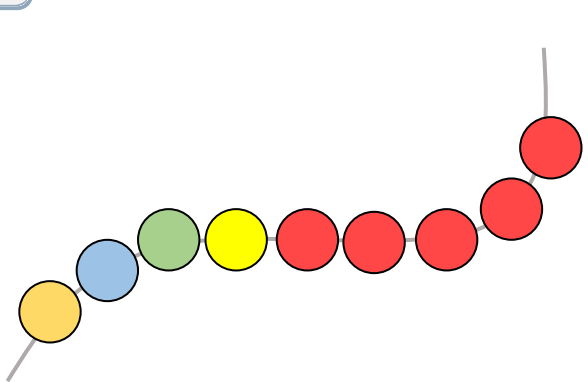
2 Entoure 7 gâteaux.




3 Entoure 8 objets.



4 Ajoute pour obtenir 9.



5 Enlève pour obtenir 6.



- Décomposer et recomposer les nombres de 6 à 9 en s'aidant des collections.

Nom :

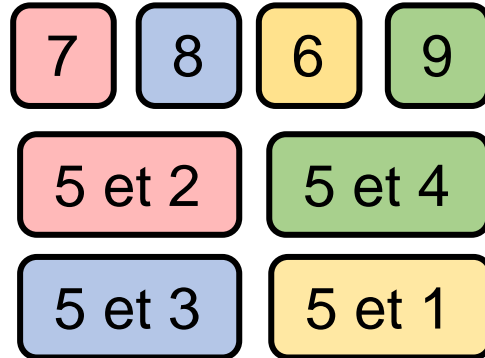
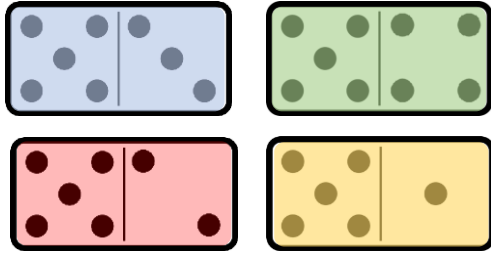
Date :

Corrigé

Lire et écrire les nombres de 6 à 9

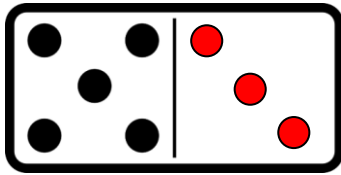
1

Colorie de la même couleur les nombres identiques.

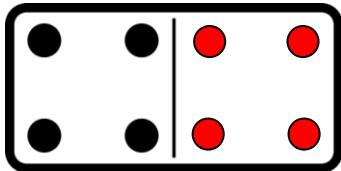


2

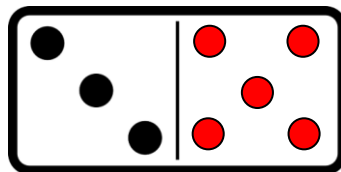
Complète pour obtenir 8.



5 et 3



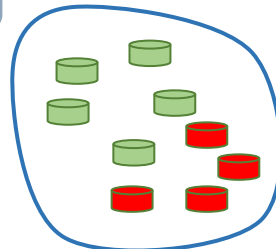
4 et 4



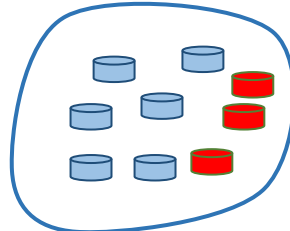
3 et 5

3

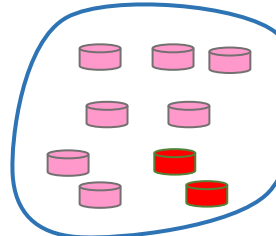
Complète pour obtenir 9.



5 et 4



6 et 3



7 et 2

4

Ecris les nombres en chiffres.

