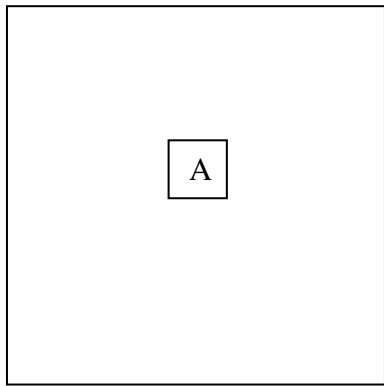


**Evaluation Mathématiques Grandeurs et mesures**

**CE2**

*Objectif : savoir calculer et tracer le périmètre d'un polygone*

**1) Calcule le périmètre de chaque polygone**

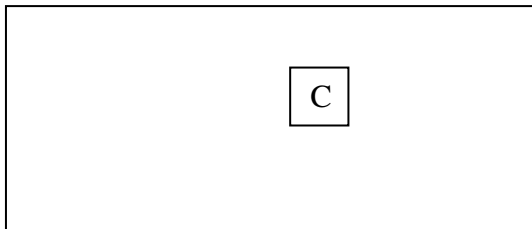
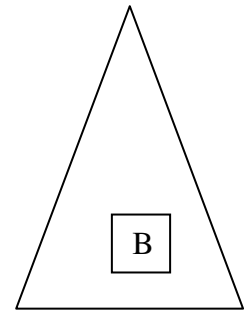


Périmètre de A = \_\_\_\_\_

\_\_\_\_\_

Périmètre de B = \_\_\_\_\_

\_\_\_\_\_

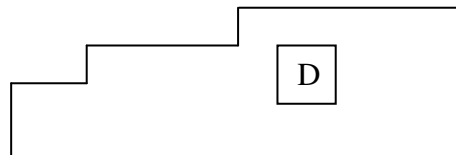


Périmètre de C = \_\_\_\_\_

\_\_\_\_\_

Périmètre de D = \_\_\_\_\_

\_\_\_\_\_

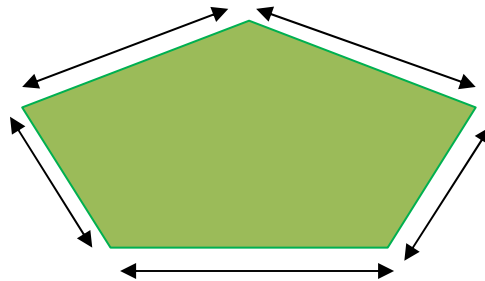


**2) Trace les polygones ci-dessous**

ABCD est un carré dont le périmètre mesure 16 cm.

Nom : ..... Prénom : ..... Date : .....  
EFGH est un rectangle dont le périmètre mesure 12 cm.

**3) Johnny veut tondre tout le tour de sa pelouse. Observe le dessin ci-dessous et calcule la distance qu'il va devoir parcourir avec sa tondeuse.**



---

---

---

---