

N5 : Les fractions Comprendre, lire

Compétences visées	Nommer les fractions en utilisant le vocabulaire : demi, tiers, quart, dixième, centième...	A	AR	ECA	NA
	Utiliser, dans des cas simples, des fractions pour coder des mesures de longueurs ou d'aires.	A	AR	ECA	NA





Exercice n° 1

Ecris ces fractions en chiffres ou en lettres.

En chiffres	En lettres	En chiffres	En lettres
$\frac{1}{2}$			quinze dixièmes
	deux sixièmes	$\frac{6}{8}$	
$\frac{4}{3}$			sept septièmes
	trois cinquièmes	$\frac{1}{100}$	
$\frac{1}{4}$			douze vingtièmes

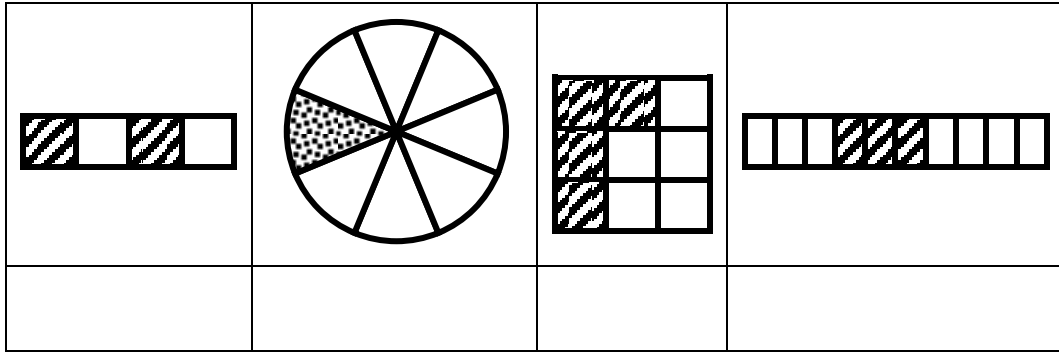
Exercice n° 2

Quelle fraction de chaque figure est représentée par la partie coloriée ?

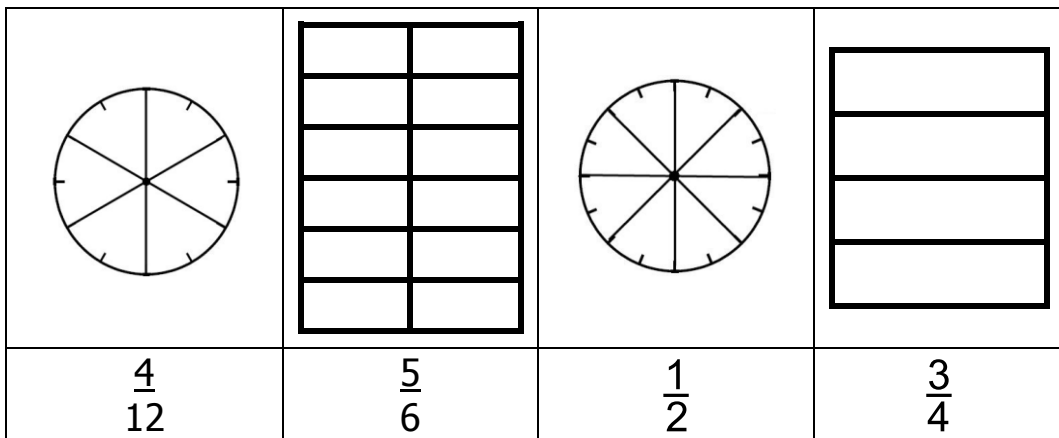
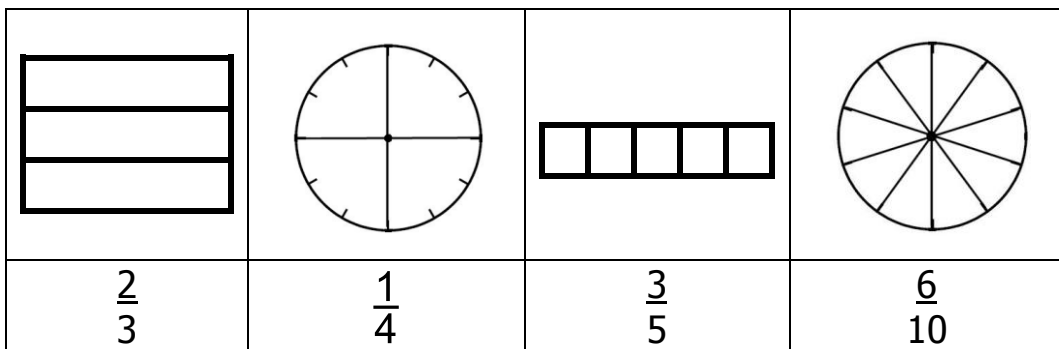
A : Acquis
AR : Acquis à Renforcer
ECA : En Cours d'Acquisition
NA : Non Acquis





Exercice n° 3

Colorie la fraction de la figure indiquée.



Exercice n° 4

Place les fractions suivantes sur la droite graduée.

