












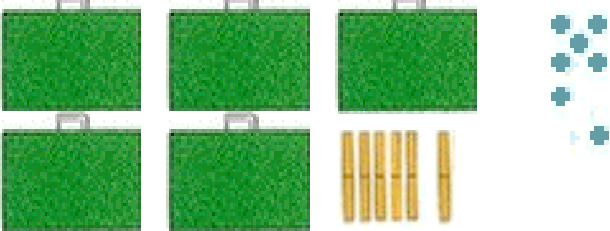

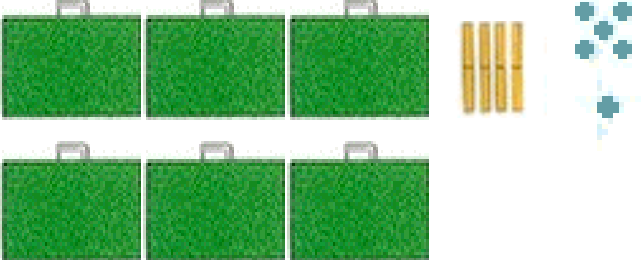


Observe l'exemple et continue.

Le matériel de Picbille et Dédé	Ce nombre s'écrit	Combien de groupes de 10 et d'unités ?
	155	C'est 15 dizaines et 5 unités
	.....	C'est ..... dizaines et ..... unités
	.....	C'est ..... dizaines et ..... unités
	.....	C'est ..... dizaines et ..... unités
	.....	C'est ..... dizaines et ..... unités
	.....	C'est ..... dizaines et ..... unités
	.....	C'est ..... dizaines et ..... unités
	.....	C'est ..... dizaines et ..... unités

Observe l'exemple et continue.

Le matériel de Picbille et Dédé	Ce nombre s'écrit	Combien de groupes de 10 et d'unités ?
	<p>.....</p>	<p>C'est ..... dizaines et ..... unités</p>
	<p>.....</p>	<p>C'est ..... dizaines et ..... unités</p>
	<p>.....</p>	<p>C'est ..... dizaines et ..... unités</p>
	<p>.....</p>	<p>C'est ..... dizaines et ..... unités</p>
	<p>.....</p>	<p>C'est ..... dizaines et ..... unités</p>
	<p>.....</p>	<p>C'est ..... dizaines et ..... unités</p>
	<p>.....</p>	<p>C'est ..... dizaines et ..... unités</p>
	<p>.....</p>	<p>C'est ..... dizaines et ..... unités</p>

