

Une commune, c'est quoi ?

La commune est la plus petite division de la France. On en compte plus de **36 000** en France.

- Certaines communes ne comptent que quelques habitants mais il existe aussi de très grandes communes comme Paris, Marseille, Lyon, Lille où les habitants se comptent en centaines de mille ou même en millions. Mais quelle que soit leur taille, toutes les communes sont organisées de la même façon. Afin de faire des économies, plusieurs communes peuvent se regrouper en une seule appelée **commune nouvelle**. Elles peuvent organiser ensemble les ramassages scolaires, la collecte des poubelles ou les travaux coûteux...

On distingue ainsi 4 types de communes :

- Les villages ou communes rurales qui comptent moins de **2 000 habitants**.
- Les petites villes qui comptent entre **2 000 et 5 000 habitants**.
- Les villes moyennes qui comptent entre **5 000 et 100 000 habitants**.
- Les grandes villes qui comptent plus de **100 000 habitants**.

Une commune, comment ça fonctionne ?

A sa tête se trouve le **Maire** et son **conseil municipal** qui s'occupent ensemble de gérer la commune. Ils sont élus pour **6 ans** par les habitants, au suffrage universel et siègent à la mairie.

Les tâches qui leur incombent sont par exemple :

- La gestion des écoles
- La gestion des déchets
- L'entretien de la voirie (routes et chemins) et des espaces verts
- Les travaux et la construction de bâtiments
- Les transports



Un département, c'est quoi ?

Chaque commune de France appartient à une unité territoriale plus grande : **le département**.

- La France compte **101 départements**. **96** en métropole et **5** en outre-mer.

D'où viennent les noms des départements ? Ils proviennent souvent de leur situation géographique.

- La présence d'une chaîne de montagne : Hautes-Alpes, Jura, Hautes-Pyrénées ...
- La présence d'un fleuve ou d'une rivière : Seine-et-Marne, Haute-Loire, Bas-Rhin...

Les départements sont classés par ordre alphabétique et reçoivent un numéro correspondant à leur place dans la liste. Le premier, l'Ain porte le numéro 1 puis vient l'Aisne 2, l'Allier 3 etc. Les 5 départements d'Outre-mer, eux portent les numéros à partir de 97. (Document 4)

Un département, comment ça fonctionne ?

Chaque département est dirigé par un **conseil départemental**. Le conseil et son président sont élus pour **6 ans**.

Les tâches qui leur incombent sont par exemple :

- La gestion et la construction des collèges.
- L'aide sociale (personnes âgées, allocations ...)
- L'entretien des routes départementales et des transports.
- La lutte contre les incendies.

Chaque département possède également **un préfet** nommé par l'État et chargé de le représenter. Il siège à la préfecture du département.



Une région, c'est quoi ?

- C'est la plus grande unité territoriale : En métropole, chaque région regroupe plusieurs départements autour d'une ville importante (appelée chef-lieu).
- La France compte **13 régions** en métropole et **5** en outre-mer. (Document 5)

Une région, comment ça fonctionne ?

Chaque région est dirigée par un **conseil régional**. Les conseillers régionaux sont élus pour **6 ans** au suffrage universel.

Les tâches qui leur incombent sont par exemple :

- La gestion et la construction des lycées.
- Les transports
- Le sport et la culture
- Actions en faveur de l'économie et de la formation professionnelle.



- Observe ton lieu de vie, aide-toi d'un adulte, de ton enseignant(e) ou effectue des recherches sur Internet et complète le questionnaire suivant.

Mon école

La commune où se situe mon école
Le nom de mon école
Le nombre d'élèves
Le nombre de classes
Mon moyen de déplacement pour m'y rendre

Mon logement

J'habite dans :

Un appartement dans un immeuble ☐ une maison individuelle ☐ récent ☐ ancien ☐

Avec :

un jardin ☐ un balcon ☐ une cour ☐

Mon quartier

Colorie ce que tu peux voir dans ton quartier.

Des commerces	Un bar	Un cinéma	Un médecin	Un parc
Une église	Une pharmacie	Une mairie	Une poste	Des champs
Une forêt	Un stade	Un restaurant	Un hôtel	Une ferme
Un supermarché	Une gare	Un arrêt de bus	Une banque	Un hôpital


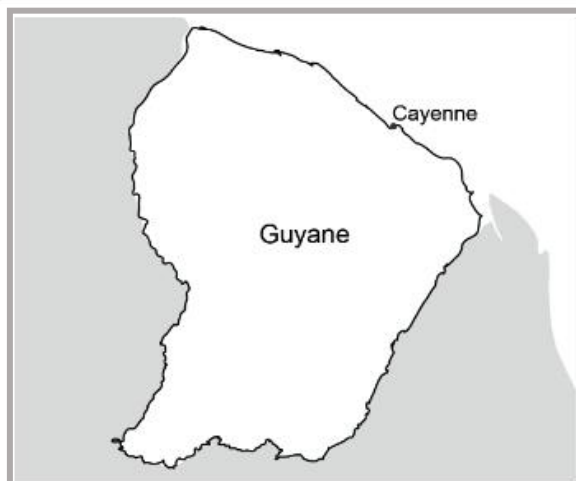
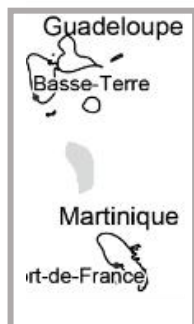
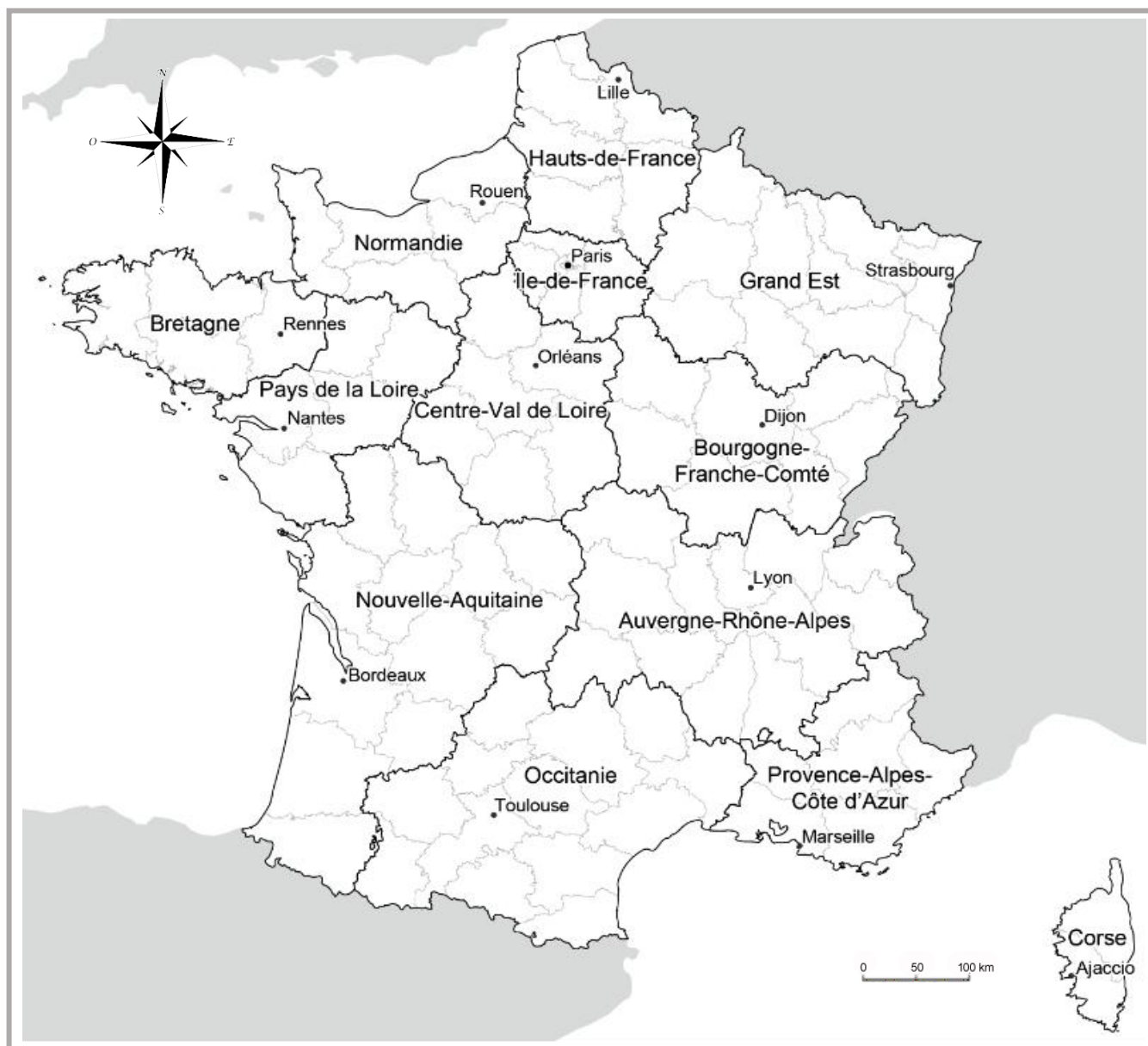
Ma commune

Nombre d'habitants
Sa taille : village, ville, ville moyenne, grande ville
En France métropolitaine ou en Outre-mer
En ville, à la campagne, en bord de mer, à la montagne
Fait partie d'un regroupement de communes

Les départements français



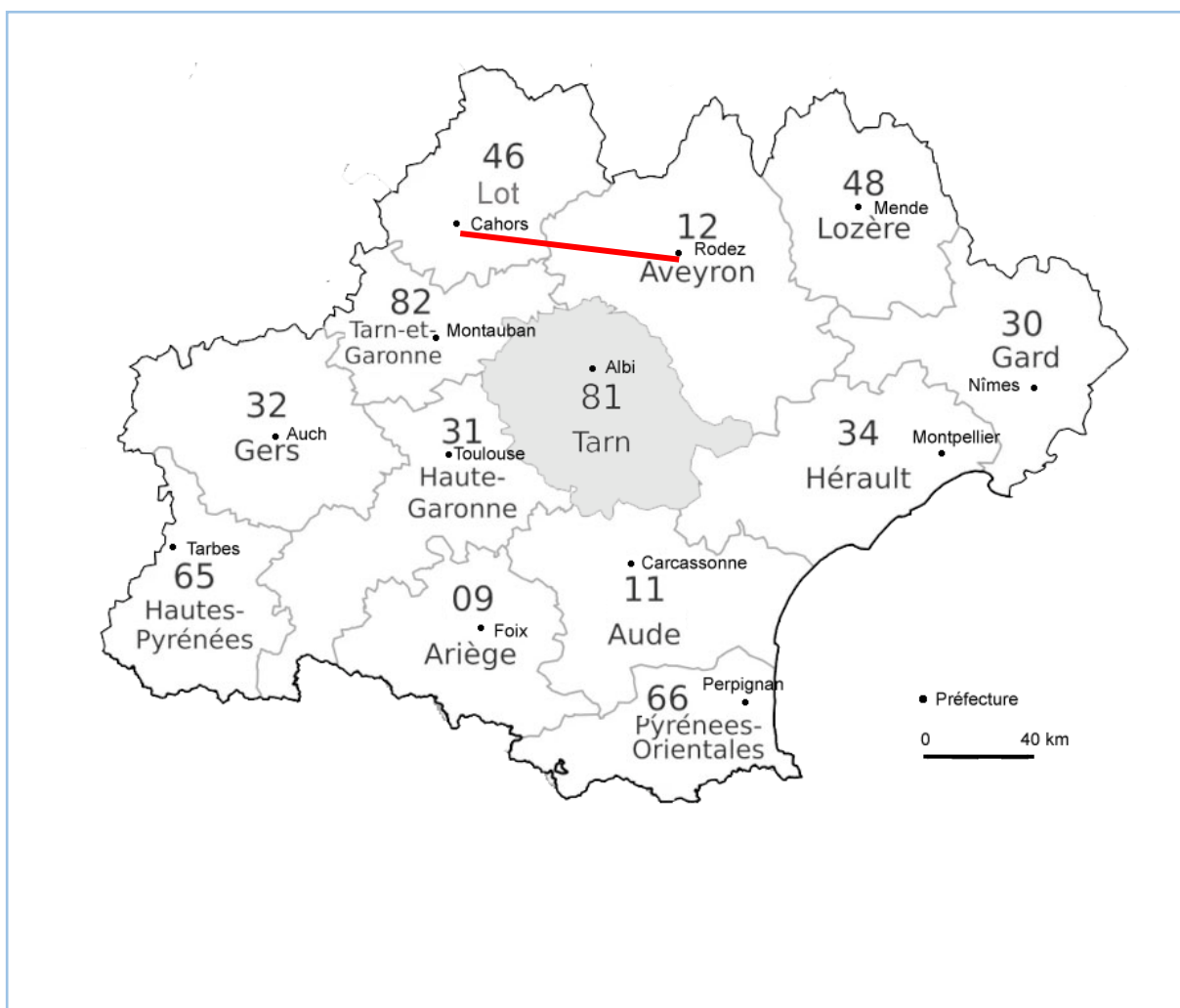
Les régions françaises



Une échelle est le rapport entre les distances réelles mesurées sur le terrain et celles inscrites sur la carte ou le plan.

Une fois que l'on connaît l'échelle de la carte, il est facile de mesurer la distance entre deux points en utilisant une règle ou un compas

Sur la carte du département du Tarn ci-dessous, l'échelle nous indique que 1,5 cm représentent 40 km dans la réalité. La distance à vol d'oiseau, sur la carte, entre Cahors et Rodez représente 3 cm. La distance réelle entre ces deux villes est de 2×40 km donc 80 km.



Pour situer son lieu de vie, on peut utiliser différents outils :

- Le plan de mon département
- La carte de ma région
- La carte de la France
- La carte de mon continent
- Et enfin le planisphère



Plus le territoire représenté est grand, plus il est difficile de situer son lieu de vie.

Département

Région

Europe

France

Monde

