

- Connaître les caractéristiques d'un lieu de vie : une commune du littoral

Nom :

Date :

Evaluation

Différents lieux de vie : une commune du littoral

/20

A	RF	RR	NA

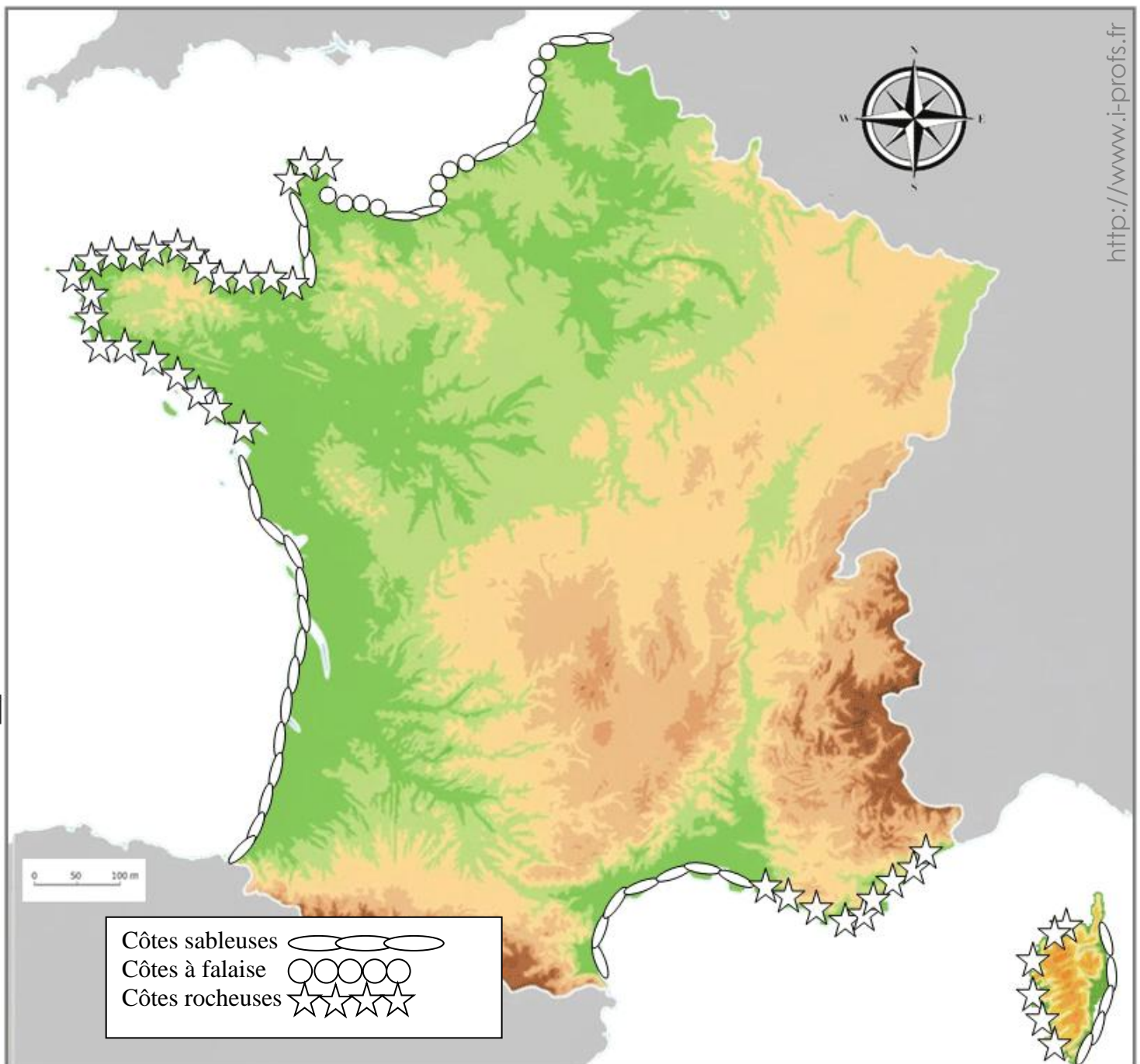
/6

1

Colorie cette carte du littoral français en t'aidant de la légende :

Les côtes rocheuses en rouge, les côtes sableuses en jaune et les côtes à falaise en marron.

Complète la carte en inscrivant Mer du Nord – Mer Méditerranée – Océan Atlantique - Manche



Nom :

Date :



Evaluation

Différents lieux de vie : une commune du littoral

/6

2 Observe ces trois images et inscrls s'il s'agit de :

- 1- Côtes rocheuses
- 2- Côtes sableuses
- 3- Côtes à falaises



/8

3 Lis le texte et réponds aux questions.

Le recul du trait de côte

Le *trait de côte*, c'est la ligne qui sépare la mer de la terre. Mais cette ligne ne reste pas toujours au même endroit ! À cause des tempêtes, des vagues et parfois des actions des humains, la mer peut "grignoter" peu à peu la plage ou les falaises. On appelle cela **le recul du trait de côte**.

Quand le trait de côte recule, certaines plages deviennent plus petites, et parfois des routes ou des maisons risquent d'être abîmées. Pour protéger le littoral, on peut y installer des plantes qui retiennent le sable, construire des digues, ou décider de laisser la nature faire pour éviter d'aggraver la situation.

Qu'est-ce que le recul du trait de côte ?

.....

Quelles sont les conséquences du recul du trait de côte ?

.....

Quelles sont les solutions mises en œuvre pour lutter contre ce phénomène ?

.....

- Connaître les caractéristiques d'un lieu de vie : une commune du littoral

Nom :

Date :

Corrigé

Différents lieux de vie : une commune du littoral

/20

A	RF	RR	NA

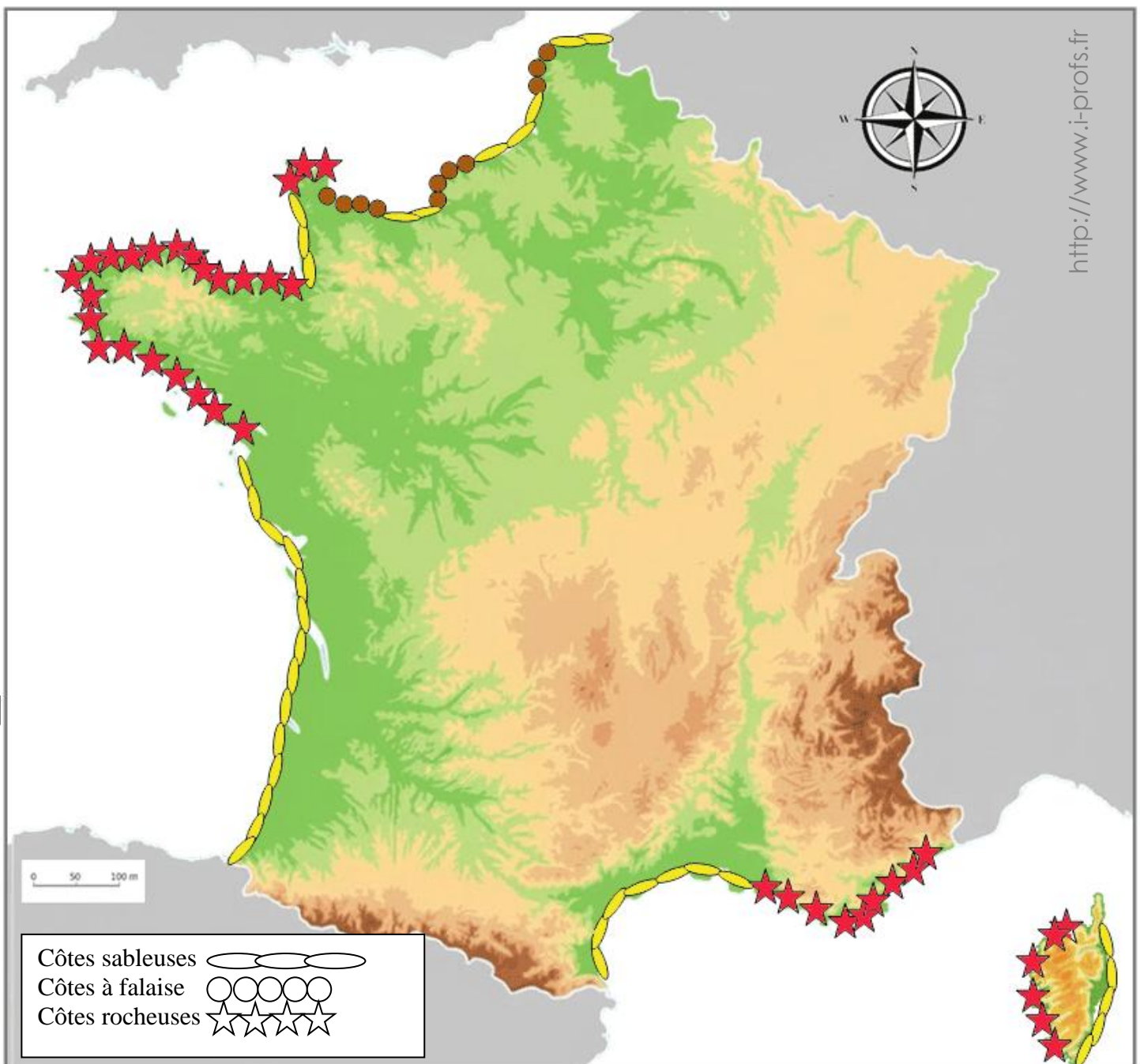
/6

1

Colorie cette carte du littoral français en t'aidant de la légende :

Les côtes rocheuses en rouge, les côtes sableuses en jaune et les côtes à falaise en marron.

Complète la carte en inscrivant Mer du Nord – Mer Méditerranée – Océan Atlantique - Manche



- Connaître les caractéristiques d'un lieu de vie : une commune du littoral.

Nom :

Date :




Corrigé

Différents lieux de vie : une commune du littoral

/6

2 Observe ces trois images et inscris s'il s'agit de :

- 1- Côtes rocheuses
- 2- Côtes sableuses
- 3- Côtes à falaises



/8

3 Lis le texte et réponds aux questions.

Le recul du trait de côte

Le *trait de côte*, c'est la ligne qui sépare la mer de la terre. Mais cette ligne ne reste pas toujours au même endroit ! À cause des tempêtes, des vagues et parfois des actions des humains, la mer peut "grignoter" peu à peu la plage ou les falaises. On appelle cela **le recul du trait de côte**.

Quand le trait de côte recule, certaines plages deviennent plus petites, et parfois des routes ou des maisons risquent d'être abîmées. Pour protéger le littoral, on peut y installer des plantes qui retiennent le sable, construire des digues, ou décider de laisser la nature faire pour éviter d'aggraver la situation.

Qu'est-ce que le recul du trait de côte ? La mer grignote peu à peu la plage et la terre. La plage disparaît.

Quelles sont les conséquences du recul du trait de côte ?

La mer gagne du terrain sur les terres, les plages diminuent et disparaissent. Les activités humaines et les habitations sont menacées.

Quelles sont les solutions mises en œuvre pour lutter contre ce phénomène ?

Certaines communes plantent des arbres et d'autres végétaux pour retenir le sable ou construisent des digues pour lutter contre la mer.